

Taak Rekenen 1

Je hebt voor deze taak 45 minuten. Gebruik van je antwoordblad de kolom waarboven staat Rekenen 1. Bij deze taak heb je een liniaal nodig.

1



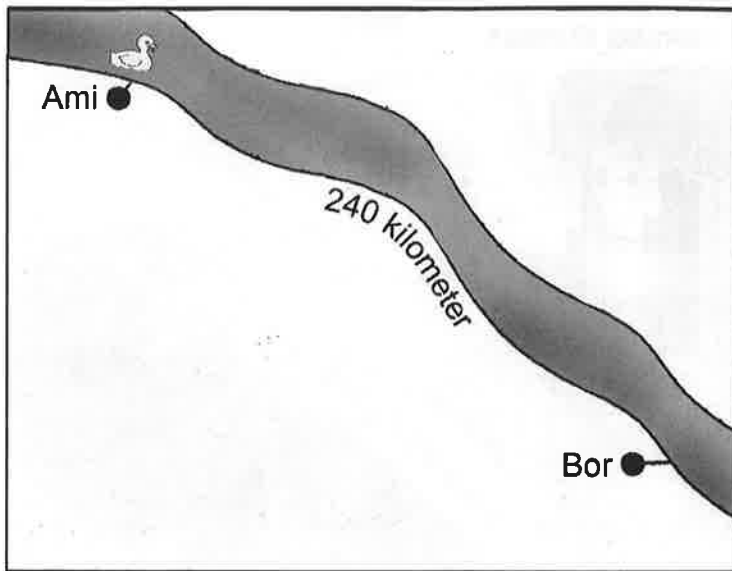
Suzanne koopt deze schoolspullen.
Hoeveel euro moet zij in totaal betalen?

- | | |
|-----------|-----------|
| A € 18 | C € 19 |
| B € 18,10 | D € 19,10 |

2 Het restaurant heeft 75 eieren gekocht. Hiervan zijn 15 eieren gebroken.
Welk deel van de eieren is gebroken?

- | | |
|----------------------|-----------------------|
| A $\frac{1}{4}$ deel | C $\frac{1}{6}$ deel |
| B $\frac{1}{5}$ deel | D $\frac{1}{15}$ deel |

3



Een plastic eendje wordt bij Ami in de rivier gezet. 48 uur later komt het eendje aan in Bor.

Wat was zijn gemiddelde snelheid in km per uur?

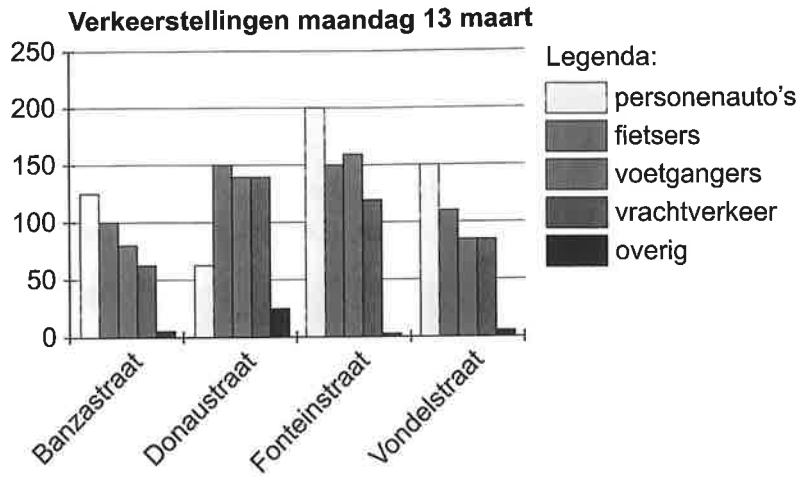
A 0,5 km/uur

C 20 km/uur

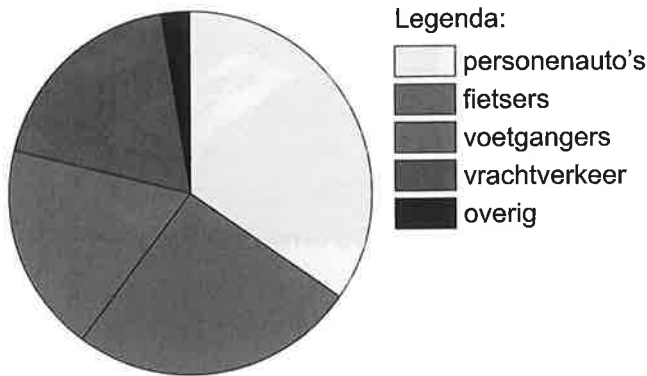
B 5 km/uur

D 50 km/uur

4




Verkeerstellingen maandag 13 maart



Bij welke straat hoort dit cirkeldiagram?

- A Banzastraat
- B Donaustraat
- C Fonteinstraat
- D Vondelstraat

5



Jonas betaalt de bal en Berend de basket. Ze willen de totale kosten eerlijk delen.

Hoeveel euro moet Jonas dan nog aan Berend betalen?

- A 5 euro
- B 10 euro
- C 20 euro
- D 25 euro

6



DJ Tijn heeft 198 uur non-stop radio gemaakt. Dit is een record. Hoeveel dagen en uren is het record?

- A 8 dagen en 4 uren
- B 8 dagen en 6 uren
- C 16 dagen en 6 uren
- D 19 dagen en 8 uren

Ga door op de volgende bladzijde.