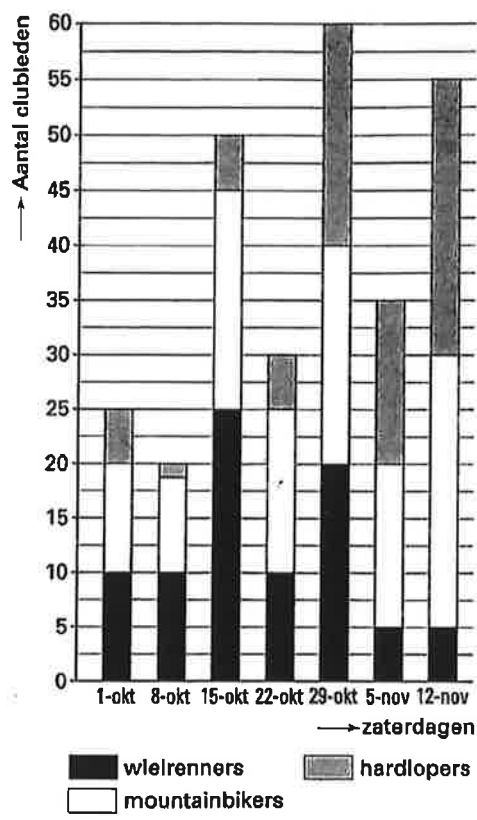


Studievaardigheden 2

Je hebt voor deze taak 40 minuten. Gebruik van je antwoordblad de kolom waarboven staat Studievaardigheden 2.

Bij sommige opgaven in deze taak heb je het Bronnenboekje nodig.

Opgave 1 Actieve clubleden op zaterdag



Bestudeer de grafiek van de actieve clubleden op zaterdag.
Op welke zaterdag waren er meer mountainbikers dan hardlopers en ook meer mountainbikers dan wielrenners?

- Op zaterdag
- A 15 oktober
 - B 22 oktober
 - C 29 oktober
 - D 12 november

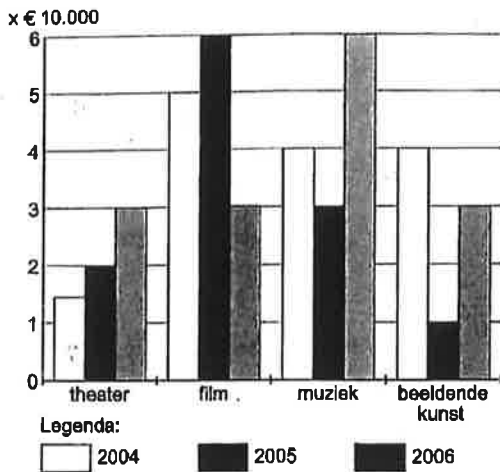
Opgave 2

Huurprijzen voor stacaravans in vakantiepark Lemvig					
Alle vermelde prijzen zijn per persoon					
Periode	Dag van aankomst	6 pers	5 pers	4 pers	3 pers
19/05 – 15/06 en van 18/08 – 31/08					
8 dagen	vrij	45,00	52,00	65,00	85,00
5 dagen	ma	33,00	39,00	48,00	63,00
4 dagen	vrij	28,00	30,00	43,00	55,00
16/06 – 08/07 en van 29/07 – 17/08					
8 dagen	vrij	55,00	64,00	79,00	
5 dagen	ma	39,00	46,00	57,00	75,00
4 dagen	vrij	34,00	37,00	49,00	64,00

Vader en moeder gaan in de laatste week van augustus 5 dagen met Lotte en Cindy op vakantie in een caravan in park Lemvig. Hoeveel huur moeten ze nu in totaal voor de caravan betalen?

- A 4 x € 48,00
- B 5 x € 33,00
- C 4 x € 46,00
- D 5 x € 49,00

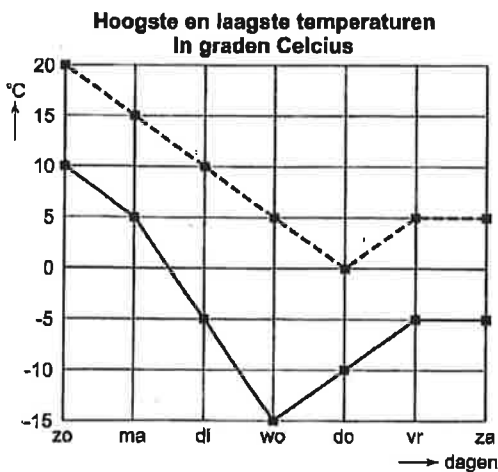
Opgave 3
Subsidie van gemeente Ploegveld



Aan welke vorm van kunst gaf de gemeente Ploegveld in 2006 twee keer zoveel subsidie als in het jaar daarvoor?

- A aan beeldende kunst
- B aan film
- C aan muziek
- D aan theater

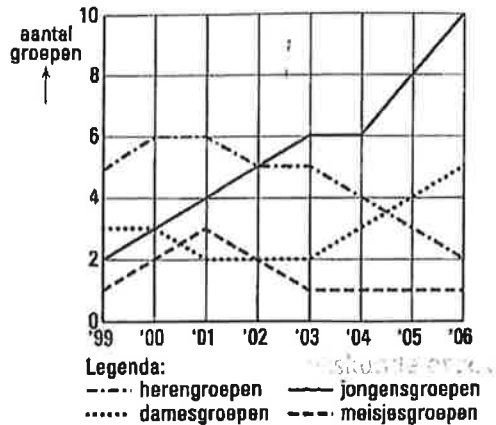
Opgave 4



Paola meet gedurende één week elke dag de hoogste en de laagste temperatuur. Wanneer was het verschil tussen de hoogste en de laagste temperatuur precies 15°C?

- A op zondag
- B op maandag
- C op dinsdag
- D op woensdag

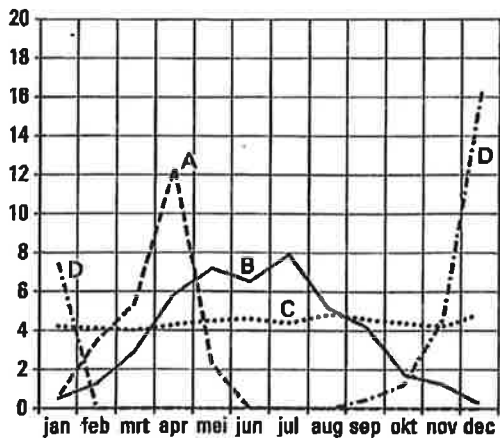
Opgave 5
Ledenbestand skeelerclub 'Vier op een rij'



Van welke skeelergroepen is het aantal groepen vanaf 2003 elk jaar met één gestegen?

- A herengroepen
- B damesgroepen
- C jongensgroepen
- D meisjesgroepen

Opgave 6
Verkoopoverzicht van 4 snoepproducten in Nederland



Hier zie je een grafiek zonder legenda. Wat zal lijn D weergeven?

- A de verkoop van zakjes paaseitjes
- B de verkoop van chocoladeletters
- C de verkoop van kauwgum
- D de verkoop van ijsjes

Ga door op de volgende bladzijde